

SOSEDJE

V vasi živijo zajci 🐰, rakuni 🐻, pujsi 🐷 in sove 🦉. Desna slika prikazuje, v kateri hiši živi katera žival. 3 hiše (na mestih A, B in C) so še prazne.

V vas se priselijo pujs, rakun in sova. Vaščani želijo, da v sosednjih hišah, povezanih s potmi, živijo različne živali, na primer noben zajec nima za soseda drugega zajca.

Poveži nove prebivalce s hišami, v katerih bodo živeli.



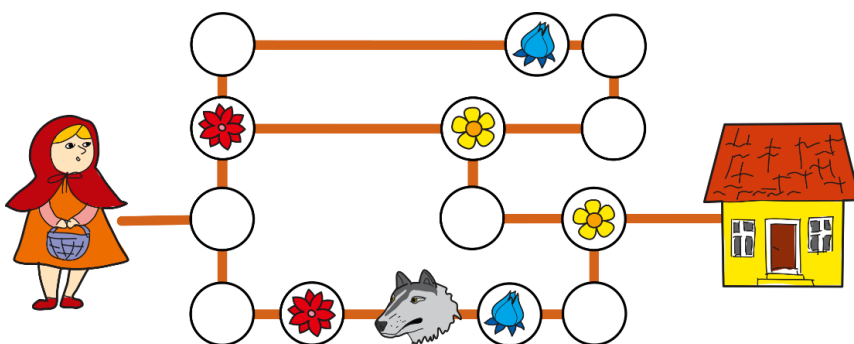
ROŽE

Rdeča kapica želi na poti k babici nabrati šopek rož. V šopku želi imeti vsaj:

- eno zlatico 🌻,
- eno rdečo vrtnico 🌺 in
- en moder tulipan 🌷.

Ker se ji mudi, bo šla po isti poti le enkrat.

Označi pot, po kateri bo deklica nabrala vse tri vrste rož, a pazi, da NE sreča volka!



JABOLKA

Babica je prerezala 4 jabolka na polovice. Vsako jabolko je imelo 5 pešk. Vsaka peška je ostala samo na eni polovici jabolka.



Poveži vsako polovico jabolka z drugo polovico istega jabolka.

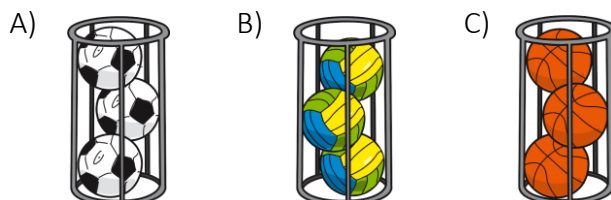
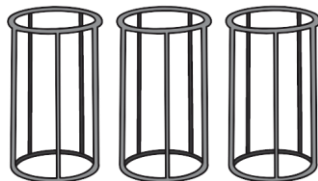


## ŽOGE



Sara je v stojalo zložila 9 žog za 3 različne športe. Žoge želi razvrstiti v tri manjša stojala, v vsako stojalo želi dati le žoge iste vrste. Ko Sara z vrha velikega stojala vzame žogo, jo odloži v svoje stojalo.


Obkroži črko pred stojalom, ki ga bo Sara najprej napolnila, če so žoge na začetku zložene, kot kaže slika na levi.



## OGRLICA

Emu in Olivija želita za svojo mamo narediti tako ogrlico:

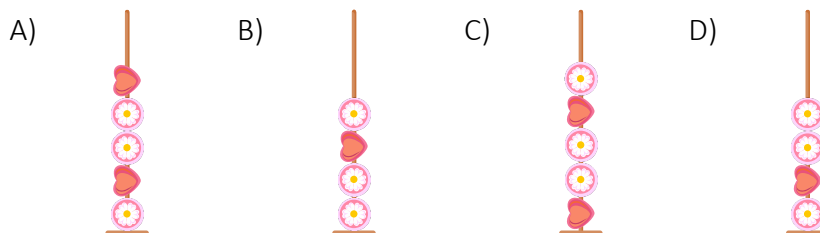
Ogrlico izdelujeta skupaj in obe hkrati. Ema nanjo dodaja perlice z leve strani, Olivija pa z desne.



Pri izdelavi ogrlice si pomagata vsaka s svojim stojalom (na sliki), na katerega nataknetata perlice. Nato na vrh obeh stojal pritrdita vrvico in s stojal potisneta perlice na vrvico.

Ema ima z dodajanjem perlic na stojalo več težav, zato se dogovorita, da za vsako perlico, ki jo doda na svoje stojalo Ema, Olivija doda na svoje stojalo dve.


Kako morajo biti na Emino stojalo nanizane perlice, da bo lahko na stojalo pritrdila vrvico in skupaj z Olivijo dokončala ogrlico? Obkroži črko pred pravilnim odgovorom.



## DEŽNIK

Na desni sliki je Anin dežnik:

Tudi ena od spodnjih slik prikazuje ta Anin dežnik. Obkroži jo.

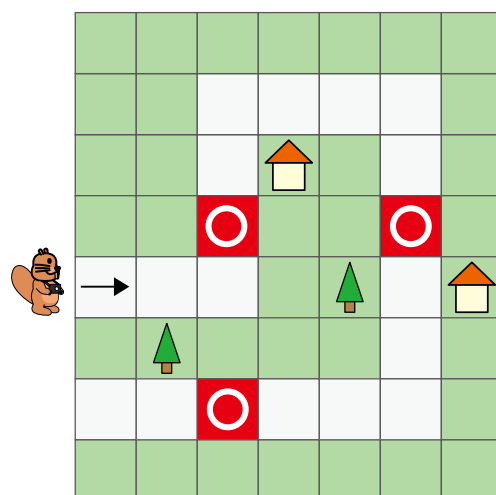


## SLIKE S POTI

Bober je šel na sprehod in po poti na treh mestih posnel fotografije. Pot sprehoda je prikazana na zemljevidu na desni sliki. Mesta, s katerih je posnel fotografije, so na zemljevidu označena z belim krogom v rdečem kvadratu.

Fotografije prikazujejo, kaj bober z označenih mest na zemljevidu vidi na mestu pred seboj ter levo in desno od tega mesta.

Katere tri fotografije je bober posnel z označenih mest?



- A)
- B)
- C)
- D)

## HAMBURGER

Bor je želel pripraviti okusen hamburger. Jelka ga je skrivaj opazovala pri pripravi in si zapisala postopek, po katerem je Bor dodajal in odstranjeval sestavine. Njeni zapiski izgledajo takole:



Znak pomeni, da je Bor odvil eno sestavino z vrha hamburgerja.

Katerega od naslednjih hamburgerjev je sestavil Bor? Obkroži ga.

