

## SZOMSZÉDOK / SOSEDJE

A faluban nyulak 🐰, mosómedvék 🐻, malacok 🐷 és baglyok 🦉 élnek. Az alábbi ábra azt mutatja, melyik állat melyik házban él. Három ház (az A, a B és a C) még üres.

Egy malac, egy mosómedve és egy bagoly költözik a faluba. A falu lakói azt szeretnék, ha a szomszédos házakban, amelyeket utak kötnek össze, különböző állatok élne, például egyetlen nyúlnak se legyen másik nyúl a szomszédja.

Párosítsd az új lakókat azokkal a házakkal, amelyekben élni fognak!



V vasi živijo zajci 🐰, rakuni 🐻, pujsi 🐷 in sove 🦉. Zgornja slika prikazuje, v kateri hiši živi katera žival. 3 hiše (na mestih A, B in C) so še prazne.

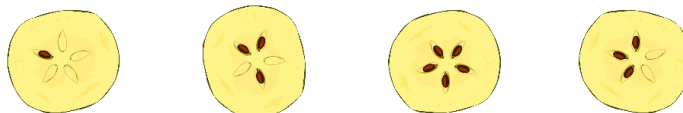
V vas se priselijo pujs, rakun in sova. Vaščani želijo, da v sosednjih hišah, povezanih s potmi, živijo različne živali, na primer noben zajec nima za soseda drugega zajca.

Poveži nove prebivalce s hišami, v katerih bodo živeli.

## ALMÁK / JABOLKA

Nagymama 4 almát félbevágott. Mindegyik almának 5 magja volt. Minden mag csak az alma egyik felén maradt.

Kösd össze a félbevágott almák mindegyikét ugyanannak az almának a másik felével!






Babica je prerezala 4 jabolka na polovice. Vsako jabolko je imelo 5 pešk. Vsaka peška je ostala samo na eni polovici jabolka.



Poveži vsako polovico jabolka z drugo polovico istega jabolka.




## VIRÁGOK / ROŽE

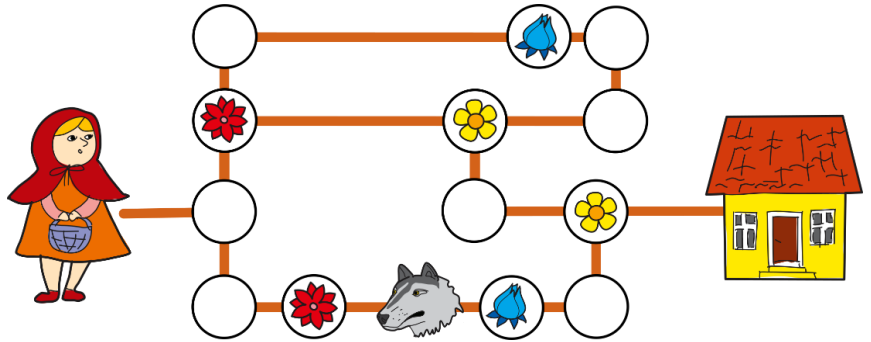
Piroska a nagymamához vezető úton virágcsokrot akar szedni. A csokorban szeretne legalább:

- egy réti boglárkát ,
- egy vörös rózsát  és
- egy kék tulipánt .

Mivel siet, minden útvonalon csak egyszer fog végigmenni. Jelöld meg az utat, amelyen a lány mindhárom virágfajtát össze fogja gyűjteni, de vigyázz, hogy NE találkozzon a farkassal!

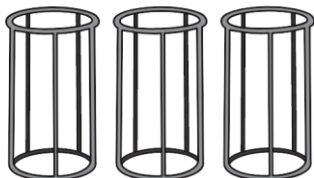
Rdeča kapica želi na poti k babici nabrati šopek rož. V šopku želi imeti vsaj:

- eno zlatico ,
- eno rdečo vrtnico  in
- en moder tulipan .



Ker se ji mudi, bo šla po isti poti le enkrat. Označi pot, po kateri bo deklica nabrala vse tri vrste rož, a pazi, da NE sreča volka!

## LABDÁK / ŽOGE



Sára 3 különböző sportághoz 9 labdát helyezett a tartóba. Három kisebb tartóban szeretné elrendezni a labdákat, és mindegyik tartóba csak azonos típusúakat szeretné tenni. Amikor Sára kivesz egy labdát a nagy tartó tetejéről, a saját tartójába helyezi azt.

Sara je v stojalo zložila 9 žog za 3 različne športe. Žoge želi razvrstiti v tri manjša stojala, v vsako stojalo želi dati le žoge iste vrste. Ko Sara z vrha velikega stojala vzame žogo, jo odloži v svoje stojalo.

Obkroži črko pred stojalom, ki ga bo Sara najprej napolnila, če so žoge na začetku zložene, kot kaže slika na levi.


A)



B)




C)



## NYAKLÁNC / OGRLICA

Éma és Olivija az édesanyjuknak ezt a nyakláncot szeretnék elkészíteni:

Együtt és egyszerre készítik el a nyakláncot. Éma bal oldalról, Olivija pedig jobbról adja a gyöngyöket.



A nyaklánc elkészítéséhez mindenki a saját állványát használja (lásd a képen), amelyre felfűzik a gyöngyöket. Ezek után az állványok tetejéhez egy madzagot rögzítenek, és az állványról a madzagra áttolják a gyöngyöket.

Éma nehezebben helyezi fel a gyöngyöket az állványára, ezért megegyeznek abban, hogy minden egyes gyöngy után, amelyet Éma rak az állványára, Olivija kettőt tesz sajátjára.

Hogyan kell felfűzve lenniük Éma állványán a gyöngyöknek, hogy a madzagot az állványhoz rögzíthesse, és Olivijával együtt befejezhesse a nyakláncot?

---

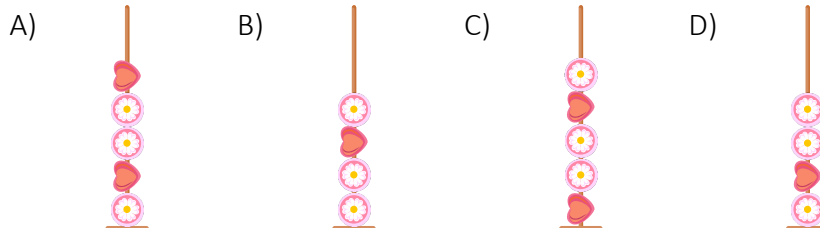
Éma in Olivija želita za svojo mamo narediti ogrlico kot je na zgornji sliki.

Ogrlico izdelujeta skupaj in obe hkrati. Éma nanjo dodaja perlice z leve strani, Olivija pa z desne.

Pri izdelavi ogrlice si pomagata vsaka s svojim stojalom (na sliki), na katerega natakneta perlice. Nato na vrh obeh stojal pritrdita vrvico in s stojal potisneta perlice na vrvico.

Éma ima z dodajanjem perlic na stojalo več težav, zato se dogovorita, da za vsako perlico, ki jo doda na svoje stojalo Éma, Olivija doda na svoje stojalo dve.

Kako morajo biti na Émino stojalo nanizane perlice, da bo lahko na stojalo pritrdila vrvico in skupaj z Olivijo dokončala ogrlico? Obkroži črko pred pravilnim odgovorom.



## ESERNYŐ / DEŽNIK

Ez Anna esernyője:

Az alábbi képek egyikén is Anna esernyője látható. Melyik az?



To je Anin dežnik:

Tudi ena od spodnjih slik prikazuje ta Anin dežnik. Obkroži jo.



## HAMBURGER

Bor izletes hamburgert akart készíteni. Jelka titokban kifigyelte, hogyan készül az, és feljegyezte a folyamatot, amely alapján Bor hozzárakta és eltávolította az összetevőket. A feljegyzései így néznek ki:



Az  szimbólum azt jelenti, hogy Bor eltávolított egy összetevőt a hamburger tetejéről.


Melyiket készítette Bor az alábbi hamburgerek közül?

Bor je želel pripraviti okusen hamburger. Jelka ga je skrivaj opazovala pri pripravi in si zapisala postopek, po katerem je Bor dodajal in odstranjeval sestavine. Njeni zapiski izgledajo takole:



Znak  pomeni, da je Bor odzvel eno sestavino z vrha hamburgerja.

Katerega od naslednjih hamburgerjev je sestavil Bor? Obkroži ga.

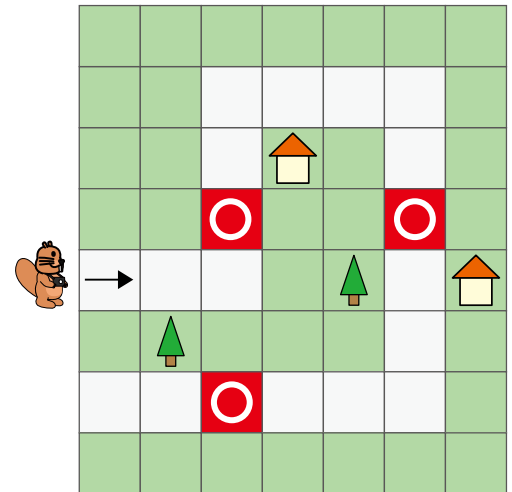


## KÉPEK ÚTKÖZBEN / SLIKE S POTI

A hód sétálni ment, és három helyen fényképezett útközben. A séta útvonalát a jobb oldali térkép mutatja. A térképen egy piros négyzetben fehér kör jelöli azokat a helyeket, ahonnan a fényképeket készítette.

A fotók azt mutatják, amit a hód a térképen megjelölt helyről az előtte lévő helyen, illetve ettől a helytől jobbra és balra lát.

Melyik három fotót készítette a hód a megjelölt helyekről?



Bober je šel na sprehod in po poti na treh mestih posnel fotografije. Pot sprehoda je prikazana na zemljevidu na desni sliki. Mesta, s katerih je posnel fotografije, so na zemljevidu označena z belim krogom v rdečem kvadratu.

Fotografije prikazujejo, kaj bober z označenih mest na zemljevidu vidi na mestu pred seboj ter levo in desno od tega mesta.

Katere tri fotografije je bober posnel z označenih mest?

- A)
- B)
- C)
- D)