

POBRISANA TABELA

Bobri si pošiljajo skrivna sporočila. Ker jih rade berejo vidre, jih zapišejo s skrivno pisavo. Na žalost je bober Lovro pobrisal nekaj črk in znakov.



S pomočjo delno pobrisane tabele ugotovi, kaj je zapisano v sporočilu:



Obkroži pravilni odgovor.

- | | |
|---------------------------|---------------------------|
| A) RAČUNALNIKI SO SUPERCA | C) INFORMATIKA JE SUPERCA |
| B) RAČUNALNIŠTVO JE ZAKON | D) RAČUNALNIKI NISO ZAKON |

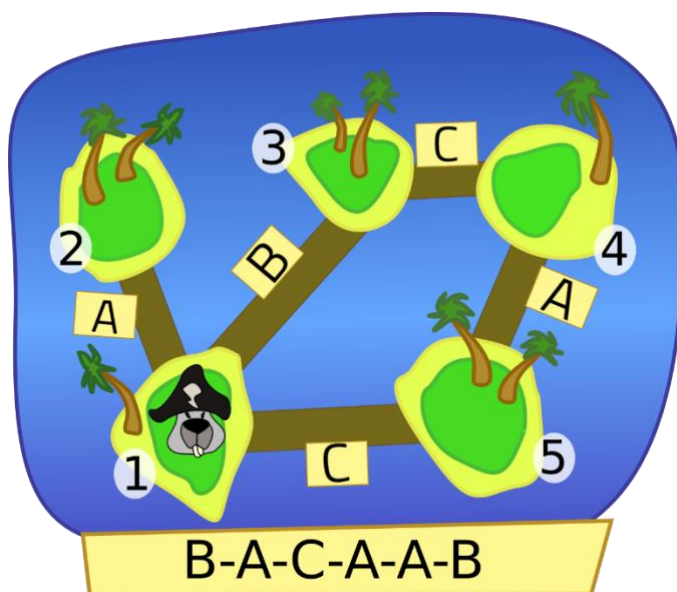
OTOK ZAKLADOV


Pirat Peter živi na otoku 1, kot vidiš na zemljevidu. Dobil je skrivno kodo: B-A-C-A-A-B, ki mu sporoča, čez katere mostove mora iti, da pride do skritega zaklada.

Če je v kodi črka za ime mostu, ki ne vodi z otoka, na katerem je trenutno Peter, to črko izpusti in pogleda naslednjo.

Na primer, če je koda A-B-A, Peter prečka most A, z otoka 1 na otok 2. Ker mostu B na otoku 2 ni, ostane na otoku 2. Ker je naslednja črka A, gre čez most A z otoka 2 na otok 1.

Na katerem otoku se skriva zaklad, če je dobil kodo B-A-C-A-A-B?





Na sliki je 14 stolpov. Kateri je deseti po vrsti, če jih razvrstimo od najnižjega do najvišjega?




NAJTEŽJA ŠKATLA

Imamo pet škatel z različni vzorci. S tehtnico lahko primerjaš teži dveh škatel.



Izvedenih je bilo pet meritev:



Katera škatla je najtežja?

A)



B)



C)



D)



E)



Bobrovska knjižnica ima samo nekaj knjig. Ko si bober izposodi knjigo, knjižničar zapiše njegovo ime in mu poda knjigo z vrha kupa. Ko bober vrne knjigo, knjižničar zapiše njegovo ime in postavi knjigo na vrh kupa.

<p>Na začetku tedna izgleda kup knjig tako:</p> 	<p>V knjižničarjevem dnevniku za ta teden so ti podatki:</p> 
---	---

Katero knjigo si je izposodila Katja? _____

GLEDALIŠKA PREDSTAVA

Igralci pravljичne predstave prihajajo in zapuščajo oder po vrstnem redu, prikazanem na sliki (od zgoraj navzdol). Predstava ima dve dejanji in med njima en odmor.

Katera izjava **ni resnična**?


- A) Princ in princesa sta bila skupaj na odru.
- B) Kralj in zmaj sta bila skupaj na odru.
- C) Princ je prišel na oder po odmoru.
- D) Princ in zmaj sta bila skupaj na odru.

Začetek 1. dejanja



Odmor

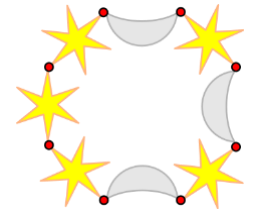
Začetek 2. dejanja





Konec

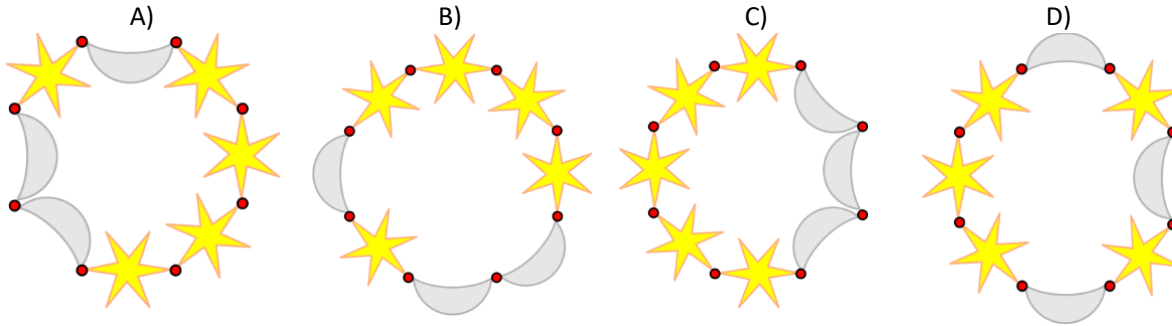
ZVEZDICE IN LUNE

Maja si želi zapestnico, kot je na sliki na desni. Janezu je zato dala naslednja navodila:



- Vzemi zvezdico  in luno  in ju spni.
- Še dvakrat ponovi prejšnji korak.
- Vzemi tri narejene delčke in jih spni v en niz.
- Na vsako stran niza dodaj še dve zvezdici in spni oba konca niza, da nastane zapestnica.

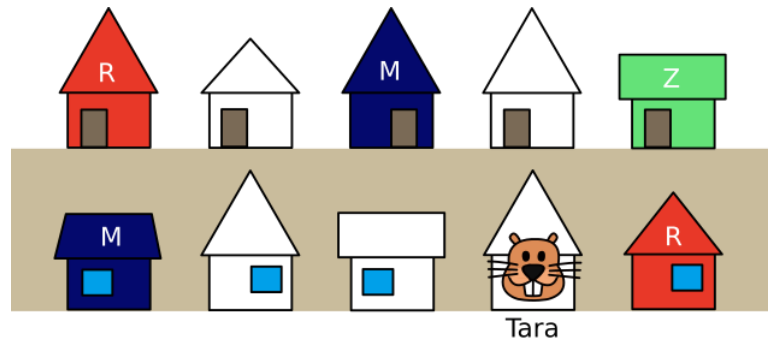
Žal mu ni dala slike, zato je lahko zapestnica, ki jo bo naredil, drugačna, četudi bo sledil navodilom. Pri kateri od spodnjih zapestnih pa **gotovo ni upošteval** Majinih navodil?



BARVANJE HIŠE

Lastniki hiš v ulici, kjer živi Tara, so se odločili svoje hiše pobarvati po naslednjih pravilih:

1. Vsaka hiša mora biti pobarvana rdeče, modro ali zeleno.
2. Sosednji hiši ne smeta biti enake barve.
3. Hiša ne sme biti enake barve kot hiša čez cesto.



Nekaj hiš je že pobarvanih, kot kaže slika.

V katero bravo lahko Tara prebarva svojo hišo?

- A) Uporabi lahko samo rdečo.
- B) Uporabi lahko samo modro.
- C) Uporabi lahko samo zeleno.
- D) Uporabi lahko modro ali zeleno.

ZAPOMNI SI GESLO

Bober Fifikus želi ustvariti geslo, ki si ga bo lahko zapomnil, drugi pa ga ne bodo mogli hitro uganiti. Uporabil bo poseben postopek. Uporabil bo stavek: **Jaz rad jem golaž, ki ga naredi kuhar Andrej.**

To poved bo uporabil, da ustvari svoje geslo: **J3r3j3g5k2g2n6k5A6**

Uporabi isto metodo in ustvari geslo iz stavka: **Računalništvo me uči učiteljica Alenka.**

Geslo je _____.

