

**Odgovore piši na list za odgovore!****BISERNA OGRLICA**

Princesa je na plesu nosila biserno ogrlico na sliki. Zvečer si jo je odpela in jo položila v predal k ostalim.

Kot veleva navada, je morala naslednje jutro nositi isto ogrlico. Vendar ima v predalu štiri. Katera je prava? Katero od ogrlic na desni je nosila včeraj?

**SKRIVNO SPOROČILO**

Bobri si pošiljajo skrivna sporočila tako, da vsako črko zamenjajo s kasnejšo črko v abecedi. Koliko črk naprej bodo šli, pove skrivno število.

Recimo, da Ana uporablja skrivno število 3. Tedaj zamenja A s Č, B z D, C z E, Č s F ... Zadnje črke abecede zamenja s prvimi – V z A, Z z B in Ž s C. Presledkov ne piše.

|   |   |   |   |   |   |   |   |   |   |   |   |   |   |   |   |   |   |   |   |   |   |   |   |   |
|---|---|---|---|---|---|---|---|---|---|---|---|---|---|---|---|---|---|---|---|---|---|---|---|---|
| A | B | C | Č | D | E | F | G | H | I | J | K | L | M | N | O | P | R | S | Š | T | U | V | Z | Ž |
| ↓ | ↓ | ↓ | ↓ | ↓ | ↓ | ↓ | ↓ | ↓ | ↓ | ↓ | ↓ | ↓ | ↓ | ↓ | ↓ | ↓ | ↓ | ↓ | ↓ | ↓ | ↓ | ↓ | ↓ | ↓ |
| Č | D | E | F | G | H | I | J | K | L | M | N | O | P | R | S | Š | T | U | V | Z | Ž | A | B | C |

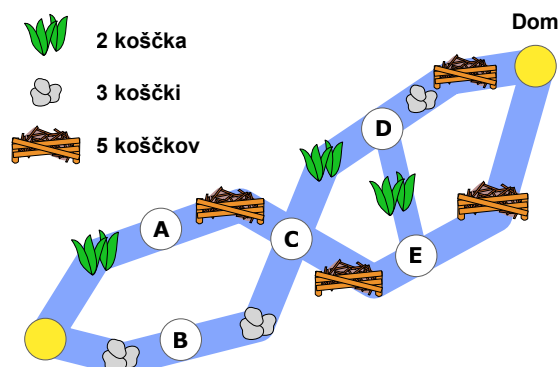
Tvoj prijatelj bober Janez ti je poslal skrivno sporočilo. Žal si pozabil, katero številko uporablja – za koliko mest zamika črke. Spomniš se le, da je besedo TRAVA zadnjič spremenil v AVECE.

Skrivno sporočilo se glasi ČEFECETFUJANM. Kaj ti sporoča?

**POT OB REKI**

Bober Lenart se vrača po reki iz šole domov. Na reki so različne ovire, ki mu jemljejo energijo. Ob sliki je napisano, koliko koščkov čokolade mora pojesti, da premaga posamezno vrsto ovire.

Ker bobri pazijo na zobe in ne marajo čokolade, gre Lenart vedno po poti, ki mu vzame najmanj energije. Mimo katerih mest, označenih s črko, gre? Koliko energije porabi za to?



## PECIVO

Suzana in Aljaž sta odprla pekarno. Suzana peče pecivo v obliki črk A, B in O. Vedno speče vse tri oblike in jih obesi tako, da najprej natakne A, nato B, nato O. Aljaž jih medtem prodaja. Suzana jih peče hitreje, kot se prodajajo.

Najmanj koliko peciva sta prodala, če je pekarna videti, kot kaže slika?



## IGRIŠČE

Bober Marko se takole odloči, kje se bo igral:

- Če je sončno, gre plavat v reko.
- Če dežuje, vendar je bilo včeraj sončno, se igra v hiši.
- Če dežuje že natančno dva dni zapored, se igra na rečnem bregu.
- Če dežuje že vsaj tri dni zapored, se ne igra.

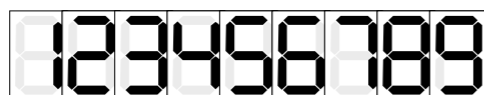
Oglej si, kakšno je bilo vreme v zadnjem tednu. Danes smo sedmega novembra. Kje se bo igral?




1. november   2. november   3. november   4. november   5. november   6. november   7. november (danes)

## POKVARJENA URA

Bober Martin ima uro, ki kaže takšne številke:



Včeraj mu je padla na tla in (natančno!) ena črta se ne prižiga več. Trenutno kaže



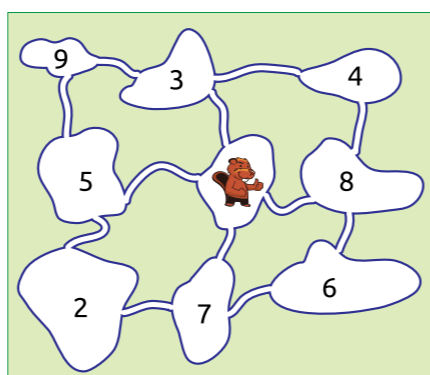
Martin ve, da ura ne more biti toliko. Katera od števil na desni bi lahko bila pravilna?

- A. 6:39  
B. 8:39  
C. 5:35  
D. 6:33

## BOBROVI PRIJATELJI

Bober Tine gre obiskat prijatelje, ki živijo v osmih jezerih okrog njegovega. Iz vsakega jezera lahko plava le v sosednja jezera, kot je narisano na sliki. Slika kaže tudi, koliko prijateljev ima v posameznem jezeru.

Plaval bo v štiri različna jezera. Največ koliko prijateljev lahko obišče na ta način?




## BOBRI IN DARILA

Bober Nikola potuje s spodnjega levega dela gozda na obisk k prijateljici Ani zgoraj desno. Vedno se premika le gor in desno, nikoli dol ali levo. Ker je danes hladno, se mora izogniti tudi jezeru.

Na svoji poti srečuje darila in bobre. Vedno, ko najde darilo, ga pobere. Ko sreča bobra, mu da darilo. Izbrati mora takšno pot, da bo vedno, ko sreča bobra, imel pri roki darilo zanj, poleg tega mu mora na koncu ostati še darilo (eno samo!) za Ano.

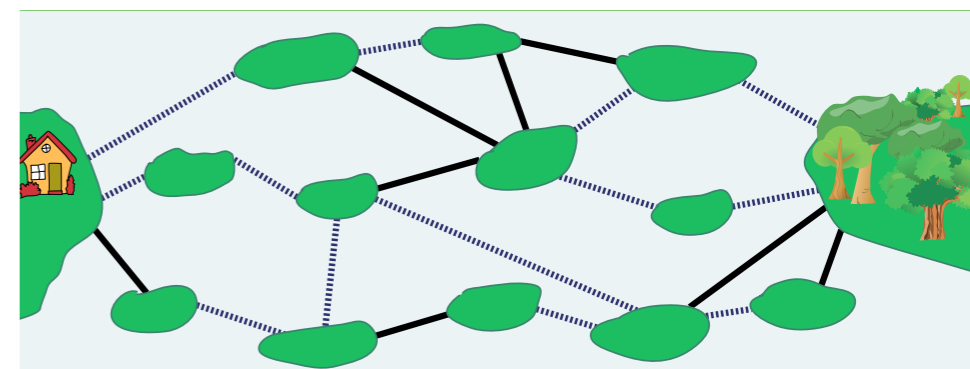
Kako dolga je najkrajša možna pot do Ane?



## MOSTOVI

Med mestom in otokom z velikim gozdom je polno otočkov, povezanih z mostovi. Nekateri mostovi so brezplačni (polne črte), za nekatere pa je potrebno plačati (črtkane črte).


Sandi gre iz mesta v gozd. Pri sebi ima dovolj denarja za dva plačljiva mostova. Koliko mostov, skupno, bo moral prečkati?



## PREUREJANJE

Mama Jelka ureja bobrčke po velikost. Reče jim: "2 in 5, zamenjajta se!" in bobra D in B, ki stojita na drugem in petem mestu se zamenjata. Katere pare bobrov je potrebno še zamenjati, da bodo urejeni po velikosti (A, B, C, D, E)?

- A. 1 in 3; 4 in 5  
B. 1 in 3  
C. 2 in 4; 1 in 3; 3 in 5  
D. 1 in 2; 2 in 3; 3 in 4; 4 in 5



## POPLAVLJANJE

Bober Krištof si pripravlja domovanje, zato bo poplavlil travnik. Vsako uro voda zalije sosednja polja vseh poplavljenih polj (zgoraj, spodaj, levo in desno, ne pa po diagonali!). Voda ne more teči skozi zidove.

Koliko časa bo minilo od takrat, ko Krištof odstrani hlode ob reki, do takrat, ko bo poplavljen ves travnik?

